

## FICHAS EXTRAS – 2º ANO

DATA: \_\_\_\_ / \_\_\_\_ / \_\_\_\_

FICHA 1



### LÍNGUA PORTUGUESA

1. FAÇA UM X NAS RESPOSTAS ADEQUADAS: (**HABILIDADES DE LEITURA E COMPREENSÃO**).

A) TEM MAIS DE DUAS PERNAS:

( **x** ) MESA      ( **x** ) BARATA      ( ) GALINHA      ( **x** ) ARANHA

B) DÃO EM ÁRVORES:

( ) DINHEIRO      ( **x** ) MAÇÃS      ( ) ALFACE      ( **x** ) LARANJAS

C) NÃO TEM CHEIRO:

( ) PERFUME      ( ) SABONETE      ( ) ALHO      ( **x** ) ÁGUA

D) TÊM ESPINHOS:

( **x** ) CACTOS      ( **x** ) ROSEIRAS      ( ) ALFACE      ( ) CENOURA

2. CIRCULE A RESPOSTA ADEQUADA: (**HABILIDADES DE LEITURA E COMPREENSÃO**).

A) QUAL PALAVRA É MAIS **LONGA**?

CABIDE

OVO

**OTORRINOLARINGOLOGISTA**

B) QUEM É A PESSOA MAIS **VELHA**?

CRIANÇA

**AVÓ**

ADOLESCENTE

C) QUAL ITEM É MAIS **CARO**?

**ANEL**

ALFACE

ABACAXI

## FICHAS EXTRAS – 2º ANO

DATA: \_\_\_\_ / \_\_\_\_ / \_\_\_\_

FICHA 2



D) O QUE É MAIS LEVE?

CARRO

CADERNO

PENA

E) QUAL PALAVRA É MENOR?

PARALELEPÍPEDO

BONECA

PÉ

3. LEIA O POEMA ABAIXO E REESCREVA - O SEPARANDO AS PALAVRAS DE ACORDO COM A QUANTIDADE INDICADA:

JACARÉ (1) _____	JACARÉ
LARGADOMEUPÉ (4) _____	LARGA DO MEU PÉ
DEIXADESERCHATO! (4) _____	DEIXA DE SER CHATO
SEVOCÊTEMFOME, (4) _____	SE VOCÊ TEM FOME
ENTÃO VÊ SE COME (4) _____	ENTÃO VÊ SE COME
SÓ O MEU SAPATO, (4) _____	SÓ O MEU SAPATO
ELARGADOMEUPÉ, (5) _____	E LARGA DO MEU PÉ,
EVOLTAPROSEUMATO, (5) _____	E VOLTA PRO SEU MATO
JACARÉ! (1) _____	JACARÉ!


# FICHAS EXTRAS – 2º ANO

DATA: \_\_\_\_ / \_\_\_\_ / \_\_\_\_

FICHA 3



4. COMPLETE A CRUZADINHA. SE NECESSÁRIO, UTILIZE O BANCO DE PALAVRAS:



5 LETRAS	7 LETRAS	8 LETRAS	10 LETRAS
BOMBA	CANGURU	BANHEIRO	PROFESSORA
BAMBU	CANTIGA	MELANCIA	AMARELINHA
PANDA	MARTELO	FANTASMA	AMBULANCIA
PONTA	MORANGO	BOMBEIRO	PERSONAGEM

## FICHAS EXTRAS – 2º ANO

DATA: \_\_\_\_ / \_\_\_\_ / \_\_\_\_

FICHA 4



### MATEMÁTICA

1- PREENCHA O CALENDÁRIO ABAIXO DO MÊS EM QUE ESTAMOS:

MÊS: **ABRIL**

ANO: **2020**

DOMINGO	SEGUNDA -FEIRA	TERÇA- FEIRA	QUARTA- FEIRA	QUINTA- FEIRA	SEXTA- FEIRA	SÁBADO
			1	2	3	4
5	6	7	8	9	10	11
12	13	14	15	16	17	18
19	20	21	22	23	24	25
26	27	28	29	30		

2- LOCALIZE NO CALENDÁRIO OS DIAS DA SEMANA E ESCREVA NAS LINHAS ABAIXO.

LEIA-OS PARA NÃO ESQUECER.

DOMINGO

SEGUNDA- FEIRA

TERÇA- FEIRA

QUARTA- FEIRA

QUINTA- FEIRA

SEXTA- FEIRA

SÁBADO

3- EM QUE DIA DA SEMANA O MÊS COMEÇOU? **QUARTA- FEIRA**

## FICHAS EXTRAS – 2º ANO

DATA: \_\_\_\_ / \_\_\_\_ / \_\_\_\_

FICHA 5



4- PINTE DE AZUL NO CALENDÁRIO OS NOMES DOS DIAS DA SEMANA.

5- UMA SEMANA TEM QUANTOS DIAS? **7 DIAS**

6- O CALENDÁRIO É DE QUAL MÊS? **ABRIL**

. CIRCULE O NOME DO MÊS DE VERDE.

7- O CALENDÁRIO É DE QUAL ANO? **2020**

. CIRCULE O ANO DE AMARELO.

8- HOJE É DIA \_\_\_\_\_. QUANTOS DIAS FALTAM PARA O MÊS ACABAR?

FALTAM \_\_\_\_\_ DIAS.

9- OLHE NO CALENDÁRIO E PINTE DE VERMELHO OS DOMINGOS.

10- QUANTOS DOMINGOS TEM ESSE MÊS? **4 DOMINGOS**

## FICHAS EXTRAS – 2º ANO

DATA: \_\_\_\_ / \_\_\_\_ / \_\_\_\_

FICHA 6



### QUADRO NUMÉRICO DO 100

1- COMPLETE O QUADRO NUMÉRICO DO 100.

SE PRECISAR DE AJUDA, USE O CADERNO DE MATEMÁTICA (CADERNO AZUL) PARA CONSULTAR O QUADRO QUE ESTÁ NA CONTRACAPA.

1	2	3	4	5	6	7	8	9	10
11	12	13	14	15	16	17	18	19	20
21	22	23	24	25	26	27	28	29	30
31	32	33	34	35	36	37	38	39	40
41	42	43	44	45	46	47	48	49	50
51	52	53	54	55	56	57	58	59	60
61	62	63	64	65	66	67	68	69	70
71	72	73	74	75	76	77	78	79	80
81	82	83	84	85	86	87	88	89	90
91	92	93	94	95	96	97	98	99	100

2- RESPONDA AS PERGUNTAS ABAIXO:

A. ESTOU NA LINHA DO 80, SOU MAIOR QUE 83 E MENOR QUE 86. TERMINO COM 5. QUEM SOU? **85**

B. ESTOU NA COLUNA DO 6. APAREÇO ENTRE 56 E 76. QUEM SOU? **66**

C. PINTE DE VERDE A COLUNA DO 9. QUAIS NÚMEROS PINTOU? ANOTE:

**9-19-29-39-49-59-69-79-89-99**

## FICHAS EXTRAS – 2º ANO

DATA: \_\_\_\_ / \_\_\_\_ / \_\_\_\_

FICHA 7



### HISTÓRIA E GEOGRAFIA

1. PINTE DE **VERMELHO** AS ATIVIDADES QUE VOCÊ REALIZA ANTES DO ALMOÇO E DE **VERDE** AS QUE VOCÊ FAZ DEPOIS DO ALMOÇO.

**RESPOSTA PESSOAL**

TOMAR CAFÉ DA MANHÃ

VER TELEVISÃO


JANTAR

BRINCAR

ESTUDAR

TOMAR BANHO

2. A SEGUIR, TEMOS INSTRUMENTOS QUE NOS AJUDAM A ORGANIZAR NOSSAS ATIVIDADES. CIRCULE OS OBJETOS QUE SUA FAMÍLIA MAIS UTILIZA PARA SE ORGANIZAR: **RESPOSTA PESSOAL**



## FICHAS EXTRAS – 2º ANO

DATA: \_\_\_\_ / \_\_\_\_ / \_\_\_\_

FICHA 8

Colégio  
São José

3. OBSERVE AS IMAGENS ABAIXO. ESCREVA, NAS LINHAS, O QUE CADA FAMÍLIA ESTÁ FAZENDO NAS CENAS 1 E 2: **RESPOSTA PESSOAL**



**R: O PAI BRINCA COM O FILHO; A MÃE LAVA E A FILHA SECA A LOUÇA.**



**R: O PAI LAVA E A FILHA SECA A LOUÇA; A MÃE DA PAPINHA PARA O BEBÊ.**

4. VOCÊ REALIZA ALGUMA DESSAS ATIVIDADES COM SUA FAMÍLIA? SE SIM, QUAIS? **RESPOSTA PESSOAL**

---


---




**CIÊNCIAS**

**NÓS E OS OUTROS ANIMAIS**


1- OBSERVE AS IMAGENS E RESPONDA ÀS QUESTÕES:



**SER HUMANO**



**TUCANO**



**PEIXE**



**JOANINHA**

## FICHAS EXTRAS – 2º ANO

DATA: \_\_\_\_ / \_\_\_\_ / \_\_\_\_

FICHA 10



- FAÇA UM X NAS AFIRMAÇÕES CORRETAS COM BASE NAS FOTOS ACIMA.  
( X ) ESSES ANIMAIS SE MOVIMENTAM DE FORMAS DIFERENTES.  
( ) O SER HUMANO NÃO É UM ANIMAL  
( X ) ESSES ANIMAIS PODEM SE REPRODUZIR E GERAR DESCENDENTES.  
( ) ENTRE ESSES ANIMAIS, SÓ O PEIXE PRECISA DE ÁGUA PARA VIVER.
  
- DE QUE OS ANIMAIS MOSTRADOS NAS FOTOS DA PÁGINA ANTERIOR PRECISAM PARA SOBREVIVER? PROCURE TRÊS ELEMENTOS NO DIAGRAMA.

A	R	M	D	S	V	M	N	A	A
A	T	U	Q	G	A	E	V	L	S
S	V	F	E	U	L	V	B	I	D
R	N	S	Á	I	Á	T	J	M	F
E	S	D	T	B	G	U	O	E	G
G	T	U	P	U	U	I	P	N	H
U	F	I	U	E	A	O	T	T	J
Á	O	X	O	T	G	S	O	O	L

## FICHAS EXTRAS – 2º ANO

DATA: \_\_\_\_ / \_\_\_\_ / \_\_\_\_

FICHA 11



- ESCOLHA UM DOS ANIMAIS DA PÁGINA ANTERIOR, FAÇA UM DESENHO DELE NO AMBIENTE EM QUE ELE VIVE E ESCREVA UMA FRASE SOBRE ELE. **(PESSOAL)**

---

---

---