

FICHAS EXTRAS – 2º ANO

DATA: ____ / ____ / ____

FICHA 1



LÍNGUA PORTUGUESA

1. FAÇA UM X NAS RESPOSTAS ADEQUADAS: (**HABILIDADES DE LEITURA E COMPREENSÃO**).

A) TEM MAIS DE DUAS PERNAS:

() MESA () BARATA () GALINHA () ARANHA

B) DÃO EM ÁRVORES:

() DINHEIRO () MAÇÃS () ALFACE () LARANJAS

C) NÃO TEM CHEIRO:

() PERFUME () SABONETE () ALHO () ÁGUA

D) TÊM ESPINHOS:

() CACTOS () ROSEIRAS () ALFACE () CENOURA

2. CIRCULE A RESPOSTA ADEQUADA: (**HABILIDADES DE LEITURA E COMPREENSÃO**).

A) QUAL PALAVRA É MAIS **LONGA**?

CABIDE

OVO

OTORRINOLARINGOLOGISTA

B) QUEM É A PESSOA MAIS **VELHA**?

CRIANÇA

AVÓ

ADOLESCENTE

C) QUAL ITEM É MAIS **CARO**?

ANEL

ALFACE

ABACAXI

FICHAS EXTRAS – 2º ANO

DATA: ____ / ____ / ____

FICHA 2



D) O QUE É MAIS LEVE?

CARRO

CADERNO

PENA

E) QUAL PALAVRA É MENOR?

PARALELEPÍPEDO

BONECA

PÉ

3. LEIA O POEMA ABAIXO E REESCREVA - O SEPARANDO AS PALAVRAS DE ACORDO COM A QUANTIDADE INDICADA:

JACARÉ (1) _____

LARGADOMEUPÉ (4) _____

DEIXADESERCHATO! (4) _____

SEVOCÊTEMFOME, (4) _____

ENTÃOVÊSECOME (4) _____

SÓOMEUSAPATO, (4) _____

ELARGADOMEUPÉ, (5) _____

EVOLTAPROSEUMATO, (5) _____

JACARÉ! (1) _____


FICHAS EXTRAS – 2º ANO

DATA: ____ / ____ / ____

FICHA 3

Colégio
São José

4. COMPLETE A CRUZADINHA. SE NECESSÁRIO, UTILIZE O BANCO DE PALAVRAS:



5 LETRAS	7 LETRAS	8 LETRAS	10 LETRAS
BOMBA	CANGURU	BANHEIRO	PROFESSORA
BAMBU	CANTIGA	MELANCIA	AMARELINHA
PANDA	MARTELO	FANTASMA	AMBULANCIA
PONTA	MORANGO	BOMBEIRO	PERSONAGEM

FICHAS EXTRAS – 2º ANO

DATA: ____ / ____ / ____

FICHA 4



MATEMÁTICA

1- PREENCHA O CALENDÁRIO ABAIXO DO MÊS EM QUE ESTAMOS:

MÊS: _____

ANO: _____

DOMINGO	SEGUNDA-FEIRA	TERÇA-FEIRA	QUARTA-FEIRA	QUINTA-FEIRA	SEXTA-FEIRA	SÁBADO

2- LOCALIZE NO CALENDÁRIO OS DIAS DA SEMANA E ESCREVA NAS LINHAS ABAIXO.
LEIA-OS PARA NÃO ESQUECER.

FICHAS EXTRAS – 2º ANO

DATA: ____ / ____ / ____

FICHA 5



3- EM QUE DIA DA SEMANA O MÊS COMEÇOU?

4- PINTE DE AZUL NO CALENDÁRIO OS NOMES DOS DIAS DA SEMANA.

5- UMA SEMANA TEM QUANTOS DIAS? _____.

6- O CALENDÁRIO É DE QUAL MÊS? _____.

CIRCULE O NOME DO MÊS DE VERDE.

7- O CALENDÁRIO É DE QUAL ANO? _____.

CIRCULE O ANO DE AMARELO.

8- HOJE É DIA _____. QUANTOS DIAS FALTAM PARA O MÊS ACABAR?

FALTAM _____ DIAS.

9- OLHE NO CALENDÁRIO E PINTE DE VERMELHO OS DOMINGOS.

10- QUANTOS DOMINGOS TEM ESSE MÊS? _____

FICHAS EXTRAS – 2º ANO

DATA: ____ / ____ / ____

FICHA 6



QUADRO NUMÉRICO DO 100

1- COMPLETE O QUADRO NUMÉRICO DO 100.

SE PRECISAR DE AJUDA, USE O CADERNO DE MATEMÁTICA (CADERNO AZUL) PARA CONSULTAR O QUADRO QUE ESTÁ NA CONTRACAPA.

1									10
	22								
									40
			44						
									70
					76				

2- RESPONDA AS PERGUNTAS ABAIXO:

A) ESTOU NA LINHA DO 80, SOU MAIOR QUE 83 E MENOR QUE 86. TERMINO COM 5. QUEM SOU? _____.

B. ESTOU NA COLUNA DO 6. APAREÇO ENTRE 56 E 76. QUEM SOU? _____.

C. PINTE DE VERDE A COLUNA DO 9. QUAIS NÚMEROS PINTOU? ANOTE:

FICHAS EXTRAS – 2º ANO

DATA: ____ / ____ / ____

FICHA 7



HISTÓRIA E GEOGRAFIA

1. PINTE DE **VERMELHO** AS ATIVIDADES QUE VOCÊ REALIZA ANTES DO ALMOÇO E DE **VERDE** AS QUE VOCÊ FAZ DEPOIS DO ALMOÇO.

TOMAR CAFÉ DA MANHÃ

VER TELEVISÃO

JANTAR

BRINCAR

ESTUDAR

TOMAR BANHO

2. A SEGUIR, TEMOS INSTRUMENTOS QUE NOS AJUAM A ORGANIZAR NOSSAS ATIVIDADES. CIRCULE OS OBJETOS QUE SUA FAMÍLIA MAIS UTILIZA PARA SE ORGANIZAR:



FICHAS EXTRAS – 2º ANO

DATA: ____ / ____ / ____

FICHA 8

Colégio
São José

3. OBSERVE AS IMAGENS ABAIXO. ESCREVA, NAS LINHAS, O QUE CADA FAMÍLIA ESTÁ FAZENDO NAS CENAS 1 E 2:





4. VOCÊ REALIZA ALGUMA DESSAS ATIVIDADES COM SUA FAMÍLIA? SE SIM, QUAIS?

FICHAS EXTRAS – 2º ANO

DATA: ____ / ____ / ____


FICHA 9



CIÊNCIAS

NÓS E OS OUTROS ANIMAIS


1- OBSERVE AS IMAGENS E RESPONDA ÀS QUESTÕES:



SER HUMANO



TUCANO



PEIXE



JOANINHA

FICHAS EXTRAS – 2º ANO

DATA: ____ / ____ / ____

FICHA 10



- FAÇA UM X NAS AFIRMAÇÕES CORRETAS COM BASE NAS FOTOS ACIMA.
 - () ESSES ANIMAIS SE MOVIMENTAM DE FORMAS DIFERENTES.
 - () O SER HUMANO NÃO É UM ANIMAL
 - () ESSES ANIMAIS PODEM SE REPRODUZIR E GERAR DESCENDENTES.
 - () ENTRE ESSES ANIMAIS, SÓ O PEIXE PRECISA DE ÁGUA PARA VIVER.

- DE QUE OS ANIMAIS MOSTRADOS NAS FOTOS DA PÁGINA ANTERIOR PRECISAM PARA SOBREVIVER? PROCURE TRÊS ELEMENTOS NO DIAGRAMA.

A	R	M	D	S	V	M	N	A	A
A	T	U	Q	G	A	E	V	L	S
S	V	F	E	U	L	V	B	I	D
R	N	S	Á	I	Á	T	J	M	F
E	S	D	T	B	G	U	O	E	G
G	T	U	P	U	U	I	P	N	H
U	F	I	U	E	A	O	T	T	J
Á	O	X	O	T	G	S	O	O	L

FICHAS EXTRAS – 2º ANO

DATA: ____ / ____ / ____

FICHA 11



- ESCOLHA UM DOS ANIMAIS DA PÁGINA ANTERIOR, FAÇA UM DESENHO DELE NO AMBIENTE EM QUE ELE VIVE E ESCREVA UMA FRASE SOBRE ELE.

